



### Aufgabe 1: Gruppenarbeit

Finde gemeinsam mit deiner Gruppe heraus, welche Flagge<sup>1</sup> zu welchem Land gehört!

#### Gruppe 1:

				
Albanien	Andorra	Belarus / Weißrussland	Belgien	Bosnien & Herzegowina
				
Bulgarien	Dänemark	Deutschland	Estland	Finnland

#### Gruppe 2:




				
Frankreich	Griechenland	Irland	Island	Italien
				
Kosovo	Kroatien	Lettland	Liechtenstein	Litauen

<sup>1</sup> Quelle der Flaggen: [https://de.wikipedia.org/wiki/Liste\\_der\\_L%C3%A4nder\\_Europas](https://de.wikipedia.org/wiki/Liste_der_L%C3%A4nder_Europas) (01/02/22)

**Gruppe 3:**

				
Luxemburg	Malta	Moldau	Monaco	Montenegro
				
Niederlande	Nordmazedonien	Norwegen	Österreich	Polen

**Gruppe 4:**

				
Portugal	Rumänien	Russland	San Marino	Schweden
				
Schweiz	Serbien	Slowakei	Slowenien	Spanien

Gruppe 5:

			
Tschechien	Ukraine	Ungarn	Vatikanstadt
			
	Vereinigtes Königreich	Zypern	